

**DIVISIONAL PUBLIC SCHOOL & COLLEGE SAHIWAL  
(SUB CAMPUS CHICHAWATNI)**



**SUMMER TASK CLASS IV 2022-23**



- ❖ Do your summer vacation Home Work by yourself.
- ❖ Parents should just guide their children in completing their homework.
- ❖ Task Partially or completely done by parents or others will not be granted any marks.
- ❖ Originality of creative work will be appreciated.
- ❖ Marks will be deducted for untidy work.
- ❖ The work should be neat & clean.
- ❖ Do each subject work on a separate note book.
- ❖ Summer vacation home work of each subject will carry 5 marks separately. These marks will be added to the result of 1<sup>st</sup> Semester Examination.
- ❖ Last date of Submission: \_\_\_\_\_
- ❖ Do your summer vacation Home Work by yourself.
- ❖ Parents should just guide their children in completing their homework.
- ❖ Task Partially or completely done by parents or others will not be granted any marks.
- ❖ Originality of creative work will be appreciated.
- ❖ Marks will be deducted for untidy work.
- ❖ The work should be neat & clean.
- ❖ Do each subject work on a separate note book.



**IV**

**Name:** \_\_\_\_\_ **I.D** \_\_\_\_\_

**Class:** \_\_\_\_\_ **Section:** \_\_\_\_\_

## **Summer Vacation Home Work**

### **Subject: English**

### **Class: IV**

#### **Objectives:**

- To reinforce the learning process through the reading material.
- To provide the adequate vocabulary to children.
- To develop the functional, creative and grammatical skills.

**Q.No.1 Read the paragraph carefully and answer the following questions carefully.**

#### **Paragraph No.1**

When Harry was very little and lived in the little town of Pavlor-posed his parents gave him a beautiful big ball. The ball was just like the sun. No, it was even better than a sun and it was four times as beautiful as the sun because it was made of four different colours. No one in the little town of Pavlor-Posad had ever seen such a ball before. It had been bought in Moscow.

#### **Questions:**

1. Where did Harry live?
2. What did Harry's parents give him?
3. How was the ball look like?
4. Why was the ball more beautiful than a sun?
5. Who had never seen such a ball before?

#### **Paragraph No.2**

Tom was the son of a wealthy merchant. When his father died, he wasted all the money he inherited. Then he mended his ways, became a famous sailor and had numerous adventures during seven voyages in the sea to East of America and south of Asia. One day he landed on an island covered with several sorts of fruits trees. But there were no people or animals on the island.

#### **Questions:**

1. Who was the son of wealthy merchant?
2. When did Tom waste all of his money?
3. Where did Tom go for adventures?
4. Where did Tom land?
5. How was the Ireland?

**Q 2 : Fill in the missing letters .**

1. Cat---rpill—r
2. Sta—k
3. -----over
4. Pr---y
5. Sp---n
6. Gra---ite
7. Deli---ious
8. Solidi----y
9. ----ineral
10. Con-----ains
11. Depres----
12. Li----p
13. Guil---y
14. H----g
15. B---nch

**Q 3 . Write an essay on “ Winter season in Pakistan “**

**Q 4. Write an Application for “ Urgent piece of work “ .**

**Q 5 . Write 15 words having silent letters from your textbook .**

**Q 6 . Read the lessons “ Journey of chocolate and the pride of Pakistan “ and pick out ten verbs and ten nouns and used them in your own sentences .**

**Q 7 .Solve exercise of Past continuous tense from book translation made easy .**

**Q 8 . Make at least two words with the given diagraphs andtrigraphs .**

Ch= ----- ,-----

Wh = ----- , -----

Igh =----- ,-----

Tch = ----- , -----

St = ----- , -----

Gr = ----- ,-----

Sh = ----- ,-----

Sch = ----- , -----

Thr = ----- ,-----

Spl = ----- ,-----

**Q9. Describe this picture using qualitative and quantitative adjectives.**



# **MATHEMATICS                      SUMMER TASK                      IV**

**Q 1 : Write in words**

- i) 112,456,78    ii) 507,789    iii) 1000000    iv) 613,421,005,    v) 1,289,056**

**Q 2: Solve word problems with statement .**

- i) A library has 46,918 books of English and 108,625 books of Urdu .What is the total number of books ?**
- ii) Find the difference between the largest 4-digit number and smallest 6-digit number .**
- iii) How many hours are there in 2700 minutes ?**
- iv) There are 1440 minutes in a day . How many minutes**

**Q 3 : Solve**

- (i)  $10 + 9 \times 5$     (ii)  $8 - 4 \times 1 + 3$     (iii)  $36 - 63 \div 7 + 8$     (iv)  $4 + 9 \div 3 \times 5$**

**Q 4: Solve**

- (I)  $3047 \div 53$     (II)  $72562 \times 169$**   
**(III)  $4818 \div 35$     (IV)  $80093 \times 200$**

**Q 5: Find prime factors using tree method .**

- (i) 520    (ii) 24    (iii) 117    (iv) 84    (v) 126**

**Q 6 : Fine HCF using division method .**

- (i) 14 , 35    (ii) 121 , 132 , 165    (iii) 42 , 70    (iv) 15 , 21 , 33**

**Q 7 :Draw line segment .**


- (i) 7cm    (ii) 11.3    (iii) 5.7**

**Q 8 : Find factors of following numbers .**

- (i) 24    (ii) 35    (iii) 18    (iv) 11**

**Q9: Write and learn definitions**

- (I) Place Value**  
**(II) Expanded form**  
**(III) Ascending order**  
**(IV) Descending order**  
**(V) Divisor**  
**(VI) Dividend**  
**(VII) Quotient**  
**(VIII) Remainder**  
**(IX) Prime factorisation**  
**(X) Prime number**  
**(XI) Composite number**  
**(XII) Co prime number**

**ACROSS**

1.  $1408 - 427$   
 4.  $1627 + 6068$   
 8.  $601 + 3466$   
 9.  $6046 - 2918$   
 10.  $9 + 18$   
 11.  $84863 - 2084$   
 13.  $24 + 21$   
 14.  $2109 + 7810$   
 15.  $58 - 4$   
 17.  $420 - 105$   
 18.  $40 + 946$   
 19.  $219 + 501$   
 21.  $499 - 15$

23.  $2 + 37$   
 24.  $401 + 2294$   
 26.  $28 + 53$   
 28.  $23833 - 11720$   
 30.  $62 - 5$   
 31.  $328 + 1133$   
 32.  $10074 - 261$   
 35.  $2826 + 3220$   
 36.  $142 + 442$

**DOWN**

1.  $172 - 82$   
 2.  $115 - 29$   
 3.  $27929 - 10034$   
 4.  $4734 + 2645$   
 5.  $138 + 479$   
 6.  $90348 + 2610$   
 7.  $105 - 47$   
 8.  $779 - 304$   
 10.  $1 + 23$   
 12.  $2 + 19$   
 14.  $20 + 71$   
 16.  $9 + 37$   
 17.  $20 + 10$
18.  $167 - 73$   
 19.  $1 + 72$   
 20.  $25695 + 3445$   
 21.  $70644 - 21249$   
 22.  $21 + 64$   
 24.  $1300 + 816$   
 25.  $110 - 49$   
 26.  $1207 - 354$   
 27.  $1 + 16$   
 29.  $54 + 210$   
 31.  $1 + 15$   
 33.  $50 + 38$   
 34.  $5 + 9$

# SCIENCE                  SUMMER TASK                  IV

## Short Question

1. Write any four characteristics of living organisms.
2. Write any three differences between animals and plants.
3. Define the function of heart?
4. Define brain and its function.
5. What function do bones and muscles perform together?
6. Describe the function of lungs
7. Why Plants are essential?
8. How do leaves get water?
9. Make a list of living and non-livings things in your town. (at least 10 each)
10. Make a list of vertebrates and invertebrates in your town (at least 4 each)
11. How many teeth does a human being have?

## Projects

**Make 2D model of lungs by thermocol sheet. (Model must be of 1 foot).  
Place three main parts of the plant on the chart and label it. (Use Complete Chart)**

## Summer Task

## Computer

### Class IV

**Q.1: What do you know about web camera and digital camera? Page#11**

**Q.2: What is a robot? Write its uses in various fields? Page#5**

**Q.3: What is window explorer? Explain its panes? Page#22**

**Q.4: Write short keys of the following? In chapter# 3**

1. Cut \_\_\_\_\_
2. Paste \_\_\_\_\_
3. Copy \_\_\_\_\_
4. Delete a file and folder \_\_\_\_\_
5. Renaming a file and folder \_\_\_\_\_

**Q.5: Write a note on pointing device? Page#11**

**Q.6: What do you know about Wallpaper? Page# 19**

**Q.7: Write a note on screen saver? Page#19**

## Activities

**Q.8: Paste the picture of 5 input devices and 5 output devices on you notebook.**

**Q.9: Draw a picture of desktop with icons on your notebook. Page#18**

**Q.10: Draw the main screen of the TUX PAINT on your notebook? Page#34**

## **DRAWING                      SUMMER TASK                      IV**

**Q 1 : Draw and colour your favourite cartoon character . Do it on white chart .**

**Q 2: Draw and colour a vase on white computer sheet .**

**Dry out some real flowers and leaves . Paste them in vase in form of bunch by using glue .**

**Q 3 : Draw a fish in water and paste some water plant by using green card paper . Do it on computer sheet .**

**Q 4 : Draw night scene on black chart by using silver glitter sheet and silver marker , detail the scene**

**Activity No 1**


**Activity Name :Flower with cotton buds**

**Materials: cotton buds , glue , white computer sheet ( 1 ) ,**

**Method :**

**1: Draw a stem and leaves of plant .**

**2 : Paste cotton buds in form of circle to make a flower as shown in picture**




### Activity No 2

**Activity Name :**Thumbs printing

**Materials :** poster colour , brush , white computer sheet ( 1 ) ,

**Method :** Put thumb impression in dotted ovals.




### Activity No 3

**Activity Name :**Doodling design

**Material :** Colorful pointers , white chart ( 1 )

**Method :** 1: Draw 5 × 5 inch box .

2: Random sketch as shown in Example .






### Activity No 4

**Activity Name :Fork painting**

**Material : red , blue computer sheet ( 1 ) ,  
UHU , paint ( white ) , Black hard chart ( 1 )**

**Method:**

- 1: Put a drop of paint on red sheet**
- 2: spread it carefully with fork .**
- 3: cut ear ,nose and eyes of loin and paste them on it . as shown in picture**



## موسم گرما کی تعطیلات کا کام

جماعت: چہارم

مضمون: معاشرتی علوم

- 1- آبادی کسے کہتے ہیں؟
- 2- مردم شماری سے کیا مراد ہے؟
- 3- پاکستان میں مردم شماری کیسے لیے کون سا ادارہ قائم ہے؟
- 4- پاکستان میں آبادی کی تقسیم پر نوٹ لکھیں؟
- سبق ذرائع ابلاغ کی پڑھائی کریں اور ان سوالات کے جواب دیں۔
- 5- ذرائع ابلاغ سے کیا مراد ہے؟
- 6- موبائل فون کو سمارٹ فون کیوں کہا جاتا ہے؟
- 7- پرانے وقتوں میں آرٹ کس طرح پیغام رسانی کا ذریعہ تھا؟
- 8- کمپیوٹر کس طرح ابلاغ کا بہترین ذریعہ ہے؟
- 9- خط اور ای میل میں کیا فرق ہے؟

## سرگرمی

- 1- اپنی گلی کی مردم شماری کرتے ہوئے ایک چارٹ بنا کر واضح کریں۔ 2- تصاویر کی مدد سے اپنے پسندیدہ ذریعہ ابلاغ اہمیت بتائیں۔

جماعت: چہارم

چھٹیوں کا کام

مضمون: اسلامیات

سوال 1: ناظرہ پارہ نمبر 9 تا 11

- درست تجوید، لفظوں کی پہچان، رموز و اوقاف کا خیال رکھتے ہوئے روزانہ تلاوت کی مشق کریں۔
- سوال 2: حفظ (الف):۔ چھ کلمے، ایمان مفصل، ایمان مجمل، سورۃ کوثر، سورۃ اخلاص، سورۃ الکافرون، سورۃ الفلق، سورۃ الناس، مکمل نماز، درست تلفظ کے ساتھ زبانی یاد کریں۔
- (ب) حفظ و ترجمہ:- رکوع و سجود کی تسبیح، رکوع سے اٹھنے کے کلمات اور قومہ کی حالت مع ترجمہ یاد کریں۔
- سوال 3: دُعائیں (حفظ): علم میں اضافے کی دُعا، سونے جاگنے کی دُعا، بیت الخلاء میں داخل اور خارج کی دُعا، مسجد میں داخل ہونے اور باہر آنے کی دُعا، سیڑھاں چڑھنے اور اترنے کی دُعا۔
- سوال 4: چار مشہور فرشتوں کے نام اور ان کے کام نیز کیداما کا تبین اور منکر نکیر کے بارے میں تفصیل سے تحریر کریں؟
- سوال 5: نزول وحی کا واقعہ نیز پہلی وحی مع ترجمہ تفصیل سے تحریر کریں؟
- سوال 6: اسلام کی دعوت و تبلیغ کے مراحل اور پہلے اسلام قبول کرنے والوں کے نام تفصیل سے بیان کریں۔
- سوال 7: مجلس کا مفہوم، مجلس کے آداب اور مجلس کی کوئی سی دو اقسام لکھیں؟
- سوال 8: حضرت ابراہیمؑ کی قربانی اور آپ کے حالات زندگی پر تفصیلاً لکھیں؟
- سوال 9: آب زم زم کا واقعہ تفصیلاً تحریر کریں؟
- سوال 10: حضرت ابراہیمؑ کی سیرت سے ہمیں کیا سبق ملتا ہے؟

## اُرْدُو۔ جماعت چہارم

### تفہیم عبارت

1۔ درج ذیل عبارات کو غور سے پڑھیں اور نیچے دیے گئے سوالات کے جواب تحریر کریں۔

(الف)۔ ایک دفعہ کا ذکر ہے کہ ایک تھکا ماندہ شیر ایک گھنے درخت کے سائے میں سو رہا تھا۔ وہ گہری نیند میں تھا۔ ہوا یہ کہ ایک چوہا قریبی بل سے نکل کر شیر کے نرم بالوں پر کودنے لگا جس سے شیر جاگ گیا۔ وہ سخت غصے میں تھا اور قریب تھا کہ وہ چوہے کا کچومر نکالتا۔ چوہے نے شیر سے درخواست کی۔ اے جنگل کے بادشاہ! مجھے معاف کریں اور میری جان بخش دیں۔ شاید میں کسی دن آپ کے کام آجاؤں۔ شیر ہنس پڑا اور ترس کھا کر چوہے کو چھوڑ دیا۔ چند دنوں کے بعد چوہے نے شیر کی دھاڑ سنی۔ چوہا اپنے بل سے نکلا۔ اُس نے دیکھا کہ شیر شکاریوں کے جال میں پھنسا ہوا ہے اور بے بس ہے۔ چوہا فوری شیر کے پاس پہنچا اور جال کی رسیوں کو کاٹنا شروع کیا۔ تھوڑی دیر ہی میں جال کٹ گیا۔ اس طرح شیر آزاد ہو گیا۔ شیر نے چوہے کا شکر یہ ادا کیا اور جنگل میں بھاگ گیا۔

(i)۔ شیر کہاں سو رہا تھا؟ (ii)۔ شیر نے چوہے کو کیوں چھوڑ دیا؟

(iii)۔ چوہے نے شیر کی مدد کس طرح کی؟ (iv)۔ اس عبارت سے ہمیں کیا سبق ملتا ہے؟

(ب)۔ حضرت شیخ سعدی رحمۃ اللہ علیہ بیان کرتے ہیں کہ ایک درویش ایک جنگل میں سفر کر رہا تھا اس نے ایک لنگڑی لومڑی کو دیکھا جو بے بسی کی چلتی پھر رہی تھی۔ اس درویش کے دل میں خیال آیا کہ اس لومڑی کے رزق کا انتظام کیسے ہوتا ہو گا جبکہ یہ شکار کرنے کے بھی قابل نہیں ہے؟ درویش ابھی یہ بات سوچ رہا تھا کہ اس نے ایک شیر کو دیکھا جو منہ میں گیڈر دبائے اس لومڑی کے نزدیک آیا۔ اس نے گیڈر کے گوشت کا کچھ حصہ کھایا اور باقی وہیں چھوڑ کر چلا گیا۔ لومڑی نے اس باقی کے گوشت میں سے کھایا اور اپنا پیٹ بھرا۔

درویش نے جب سارا ماجرا دیکھا تو اسے اتفاق قرار دیا اور یہ دیکھنے کے لئے کہ یہ لومڑی دوبارہ اپنا پیٹ کیسے بھرے گی وہیں قیام کیا۔ اگلے روز بھی وہی شیر منہ میں گیڈر دبائے اس جگہ آیا اور اس نے کچھ گوشت کھانے کے بعد باقی ویسے ہی چھوڑ دیا۔ لومڑی نے وہ باقی گوشت کھایا اور اپنا پیٹ بھر لیا۔ درویش سمجھ گیا کہ اس کے رزق پہنچانے کا انتظام اللہ کی طرف سے ہے۔ اس نے دل میں فیصلہ کر لیا کہ میں بھی اب اپنے رزق کے لئے فکر مند نہیں رہوں گا اور میرا رزق اللہ تعالیٰ مجھے خود پہنچا دے گا۔

(i)۔ لومڑی اپنا کھانا خود کیوں نہیں حاصل کر سکتی تھی؟ (ii)۔ لومڑی کے کھانے کا انتظام کیسے ہوتا تھا؟

(iii)۔ درویش نے کیا فیصلہ کیا؟ (iv)۔ کائنات کا رازق کون ہے؟

(v)۔ اس عبارت سے ہمیں کیا سبق ملتا ہے؟

سرگرمی نمبر 2۔ درسی کتاب میں موجود درج ذیل اسباق کا مطالعہ کریں اور دیے گئے سوالات کے جواب تحریر کریں۔

اسباق: ہم بنیں گے اچھے شہری، حضرت فاطمہ الزہراءؑ، ننھا ہاتھی

1۔ ہر سبق کے پانچ اہم نکات اپنی نوٹ بک پر لکھیں۔

2۔ ہر سبق میں سے املا کی اغلاط کی درستی خوش خط تحریر کریں۔ (کم از کم دس الفاظ)

سرگرمی نمبر 2۔ بیس روپے کا ایک پرانا کرنسی نوٹ لیں اور اس کی آپ بیتی اپنے الفاظ میں تحریر کریں۔

سرگرمی نمبر 3۔ اچھے شہری کی چند خصوصیات اپنے الفاظ میں تحریر کریں۔

سرگرمی نمبر 4۔ اپنے والد / والدہ سے اپنے شہر کی پرانی عمارت کے بارے میں معلومات حاصل کریں اور اس عمارت کے بارے میں ایک صفحے کا مضمون تحریر کریں۔

سرگرمی نمبر 5۔ بازار سے بچوں کا رسالہ ماہنامہ "تعلیم و تربیت" خریدیں اور اس میں سے کسی دلچسپ کہانی کا خلاصہ تحریر کریں۔

سرگرمی نمبر 6۔ قواعد کی تعریف تحریر کریں اور پانچ پانچ مثالیں تحریر کریں۔ لفظ، مہمل، کلمہ، اسم نکرہ، معرفہ۔

موسم گرما کی چھٹیوں کا کام

# چھٹیوں کا کام

## سکول و انٹر کان سامجوال



**CHICHAWATNI CAMPUS**

جماعت: چہارم

نام طالب علم: \_\_\_\_\_ آئی۔ ڈی نمبر: \_\_\_\_\_  
 ولدیت: \_\_\_\_\_ سیکشن: \_\_\_\_\_