



DIVISIONAL PUBLIC SCHOOL & COLLEGE SAHIWAL
(CHICHAWATNI CAMPUS)



SUMMER VACATION TASK 2024 Class: IV

Name: _____ **I.D** _____

Class: _____ **Section:** _____

Note: Prep to class VIII students will write their summer task in separate registers. All parents are directed to supervise their kids while doing summer task. All work should be written in neat and clean way properly. Summer task written by parents or tutors will not be accepted. Student's name ,class and subject should be mentioned on registers. Registers should be laminated properly. *Thank you ☺*

English

1: Read the paragraph carefully and answer the following questions.

Historians say chocolate has been around for almost 2000 years. In ancient times, chocolate was a symbol of wealth as only the rich could afford it. Chocolate came from Central and South America to Spain in 1500s through Spanish explorers who brought it back with them. It became very popular and soon spread throughout Europe. You would be amazed to know that chocolate comes from cocoa trees in its raw form. Chocolate is no doubt a good source of vitamins and minerals, but eating too much chocolate is not a good habit. We must remember to always brush our teeth after eating chocolate.

- 1-What did chocolate symbolize in ancient times? 2- Where was chocolate first discovered?
3-What is the raw form of chocolate? 4- What should we do after eating chocolate?
5-How is eating more chocolate good for health?

Q.2: Fill in the missing letters.

Cat-rpill-r Amaz---d courage---u-- Pr---y Sp---n Lig---ht B---nch
Deli---ious Bea---n F---ag Depres--- Li--- Guil--- H---g

Q.3. Write as essay on “Winter season in Pakistan”.

Q.4. Write a letter to your friend for lending some English stories books.

Q.5. Write 15 words having silent letters from your textbook.

Q.6. Read the lessons “ The journey of chocolate” and “Great Caliph of Islam”, underline difficult words and write on your note book ten times?

Q7. Write the Ten sentences of present continuous tense? 5 times

Q8. Describe the character of Rubezhal and Glazier?

Q9 . Make at least two words with the given diagraphs and Andtrigraphs.

Ch= Wh = Ch= Wh = Igh= Tch =
St= Gr= Sh= Sch= Thr = Spl=

Activity work: Go to any park and describe in your own words the things you saw and spent time there.?

- Q.1: What is the difference between a computer and a laptop?
 Q.2: What is a pixel, and how is it related to computer graphics?
 Q.3: Write a short essay on the importance of computers in our daily life.
 Q.4: Describe the basic parts of a computer and their functions.
 Q.5: How do we turn on and off a computer?
 Q.6: Make a list of input and output devices of a computer.
 Q.7: What is a search engine and how do we use it to find information?
 Q.8: Draw or design a simple computer mouse or keyboard.
 Q.9: Write a short story about a character that learns to use a computer for the first time.
 Q.10: Write a short paragraph about your favourite computer game or app and why you enjoy playing it.

Note: (Learn the following units)

Unit# 2 Input and output devices

Unit# 3 More About windows 7




Unit# 7 Feature of World 2013

SUMMER TASK

MATHEMATICS

CLASS:IV

- Q.1: Write the divisibility rules of 2, 3, 5 and 10 with examples.
 Q.2: Solve these: 5.6×8 4.3×1000 $6.4 \div 4$ $1.8 \div 9$
 Q.3: Find the first common multiple of the given numbers.
 8, 4, 16 2, 5, 10 6, 15
 Q.4: Find the common prime factors of the given numbers.
 7, 21, 28 24, 32, 18 14, 30
 Q.5: Convert following Time
 63 minutes 58 seconds into seconds 27 hours 38 minutes into minutes
 201 hours into minutes 29 years 7 months into months
 41 months 22 days into days
 Q.6: Define following.
 Angle and its types Circle Radius of circle
 Diameter of circle Centre of circle
 Q# 7 Solve the given fractions
 $\frac{15}{21} + \frac{7}{21}$ $\frac{2}{24} + \frac{12}{24} + \frac{5}{24}$ $\frac{8}{13} - \frac{2}{13}$
 $4 \frac{2}{11} \times 2 \frac{5}{10}$ $\frac{1}{6} \div 9$
 Q.8: Ejaz travelled 6 hours 34 minutes 45 seconds in a bus and 4 hours 20 minutes 12 seconds in a train .find
 (a) How much more time did he travel in bus than train?
 (b) How much did he travel altogether?
 Q.9: Make a model of clock with hands by using any hard paper.
 Q.10: Hania has $12\frac{4}{7}$ m of ribbon .She wants to cut it into 8 equal pieces. What will be length of each piece?

Q- 1:Line Art**Materials :** White computer paper (1)**Method :** Draw vertical , horizontal diagonal lines dots in the picture with different colour .**Q -2 :Egg Patterns****Method :** Draw two egg shapes on computer design them with colour pencils .**Q -3 :Egg Shell people****Material:** Empty egg shell , glue , paints**Method :** Make a hole in egg . Wash and dry it . Draw a paint face of any character .**Q -4 : Draw a scene of sunset .**

- 1: Make list of living and non-living things in your home (10 for each).
- 2: Draw a sketch of lungs and label it.
- 3: Draw a sketch of plant and label it.
- 4: Make a electric circuit consist of one bulb, switch, wire and battery.
- 5: Write in brief about how solar panels produces energy.

NOTE : Use A4 size chart to draw all diagram and write answer. Make a single binding.

اسلامیات	تعطیلات گرما کا کام	جماعت: چہارم
----------	---------------------	--------------

- | | | |
|--|---|--|
| <p>سورۃ الماعون زبانی یاد کریں</p> <p>سورۃ اللہب زبانی یاد کریں</p> <p>سورۃ کوثر کے بارے میں ایک حدیث کا ترجمہ یاد کریں اور لکھیں۔</p> <p>حدیث نمبر ایک کا ترجمہ یاد کریں اور لکھیں۔</p> <p>حدیث نمبر تین کا ترجمہ یاد کریں اور لکھیں۔</p> <p>حدیث نمبر پانچ کا ترجمہ یاد کریں اور لکھیں۔</p> <p>جاگنے کی دعا اور اس کا ترجمہ یاد کریں اور لکھیں</p> | <p>سورۃ الکافرون زبانی یاد کریں</p> <p>سورۃ الکوثر اور اس کا ترجمہ زبانی یاد کریں اور لکھیں۔</p> <p>نماز کے کلمات اور ان کا ترجمہ یاد کریں اور لکھیں۔</p> <p>حدیث نمبر دو کا ترجمہ یاد کریں اور لکھیں۔</p> <p>حدیث نمبر چار کا ترجمہ یاد کریں اور لکھیں۔</p> <p>سونے کی دعا اور اس کا ترجمہ یاد کریں اور لکھیں۔</p> | |
|--|---|--|

س: ادائیگی نماز کی ڈائری خریدیں اور روزانہ کی بنیاد پر والدین سے دستخط کروائے۔ (جھوٹ سے اجتناب)

ناظرہ قرآن	تعطیلات گرما کا کام	جماعت: چہارم
------------	---------------------	--------------

- | | | |
|---|--|--|
| <p>ولین اور یالین کے درمیان فرق لکھیں۔</p> <p>قرآن پاک میں کل کتنے رکوع اور آیات ہیں۔</p> <p>سورۃ الشعراء کے موضوعات پر بحث کریں۔</p> <p>سورۃ القارعہ میں سے حروف قلعہ نکال کر لکھیں۔</p> <p>قرآن پاک میں کل کتنے سجدے ہیں۔</p> | <p>الف مدہ و اؤمدہ اور یائے مدہ کی تعریف لکھیں۔</p> <p>سورۃ الشعراء کے رکوع اور سورۃ توبہ اور آیات کی تعداد لکھیں۔</p> <p>ام السورۃ یعنی سورتوں کی ماں کس سورت کو کہا جاتا ہے</p> <p>موٹے اور باریک پڑھے جانے والے الفاظ لکھیں۔ قرآن پاک میں کل کتنے سجدے اور سورتیں ہیں۔</p> <p>پارہ نمبر 10 رکوع 11 سے پارہ نمبر 2 و ما من دابة مکمل یاد کریں۔</p> | |
|---|--|--|

نوٹ : تمام سوالات کو ایک ایک دفعہ لکھنا اور یاد کرنا ہے۔

تعطیلات گرما کا کام برائے جماعت چہارم

اُردو جماعت چہارم

1: باتیں دانائی کی، تاریخی عمارتیں دونوں اسباق میں سے پانچ پانچ سوالات بنائیں ان کے جوابات دیں اور پانچ پانچ الفاظ معنی لکھیں اور جملے بنائیں۔
2: دیے ہوئے اشاروں کی مدد سے کہانی لکھیں، نیز اس کا کوئی موزوں عنوان اور اخلاقی سبق بھی بتائیں۔

ایک لالچی آدمی کے پاس عجیب و غریب مرغی کا ہونا _____ مرغی کا روزانہ سونے کا انڈا دینا _____ لالچی بیوی کا اس مرغی کو ذبح کرنے کا مشورہ دینا _____ ایک ہی دن میں مالدار بننے کے لیے مرغی کا ذبح کرنا _____ مرغی کے پیٹ سے ایک ہی انڈے کا نکل آنا _____ دونوں میاں بیوی کا بچھڑنا _____
اخلاقی سبق _____

3: نیچے دیے ہوئے لفظوں میں سے اسم اور اسم ضمیر الگ الگ کر کے لکھیں۔

بادشاہ سونا برتن شہزادی ہم گیا چلا آیا روشنی کرہ وہ نمودار ہوا تمہارا چھڑکا اسے پھول
آپ تم

4: نیچے دیے گئے الفاظ کو الف بائی ترتیب سے لکھیں۔

خوشی پھلاتی کروٹیں ٹھنڈی عجب سہانا جیت چڑیاں منہ بہار مشرق اداں گیت بستر دموں
س-4: دیے ہوئے الفاظ میں سے متضاد کی جوڑیاں بنائیں۔ چھوٹا آزاد آسان غریب ابتدا انتہا مشکل غلام بڑا امیر
س-5: درج ذیل الفاظ میں سے مذکر اور مونث الگ الگ کر کے لکھیں۔ جنگل سورج بات چاند چڑیا جلوہ رستہ پیالی نہر

جماعت: چہارم

تعطیلات گرما کا کام

معاشرتی علوم

سرگرمی 1- "تاریخ" سبق کو پڑھتے ہوئے ان سوالات کے جوابات دیں۔

1- آج سے ہزاروں سال پہلے انسان کیسی زندگی گزارتا تھا؟ 2- وادی سندھ کی تہذیب کن کن علاقوں پر مشتمل تھی؟ اسکے ثقافتی پہلوؤں کی وضاحت کریں۔

سرگرمی 2- سبق "مردم شماری" کی پڑھائی کرتے ہوئے ان سوالات کے جوابات دیں۔

1- مردم شماری کرنا کیوں ضروری ہے وضاحت کریں؟ 2- بڑھتی ہوئی آبادی کے مسائل اور ان کے حل کیلئے کون سی تدابیر اختیار کرنی چاہئے؟

سرگرمی 3: سبق "نقشہ اور گلوب" کی پڑھائی کرتے ہوئے ان سوالات کے جوابات دیں۔

نقشہ کے عناصر کون کونسے ہیں ان پر نوٹ لکھیں۔

سرگرمی نمبر 4

1- نقشہ کی مدد سے دنیا کے براعظموں اور بحروں کو تلاش کریں۔ 2- پاکستان کا نقشہ بناتے ہوئے پاکستان کے ہمسائے ملک ڈھونڈیں۔

3- پاکستان کے صحرائی علاقوں کی فہرست بنائیں۔ اور ان کی طرز زندگی پر جامع نوٹ لکھیں۔